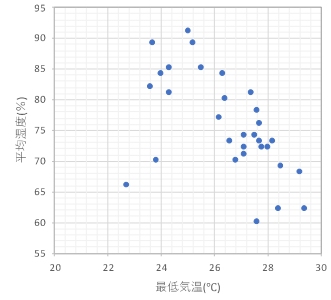


■ 6-4：相関係数

6-4-1 右の散布図の相関係数に最も近いものは？

- ① 0.9
- ② 0.5
- ③ -0.5
- ④ -0.9

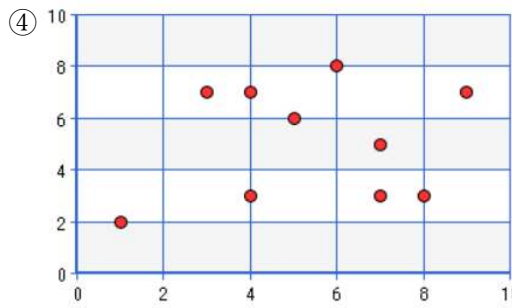
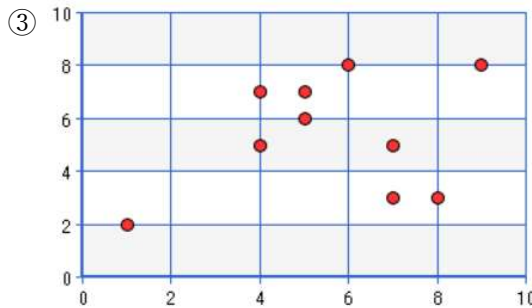
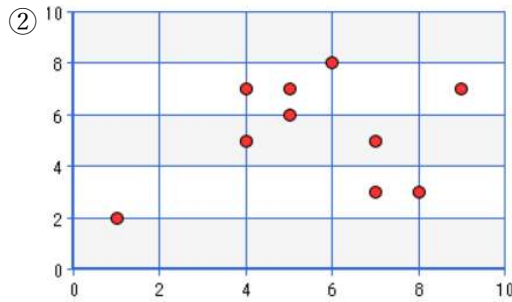
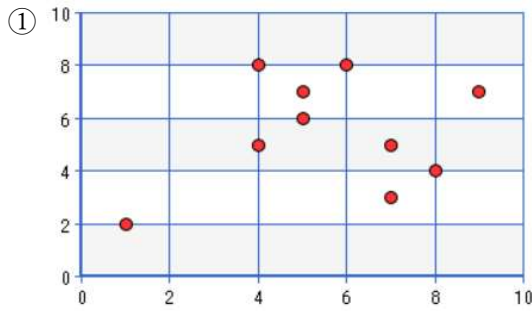


6-4-2 次のテストの成績のデータを散布図にしたものはどれ？（縦軸：数学、横軸：英語）

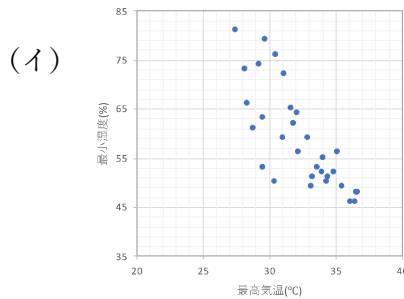
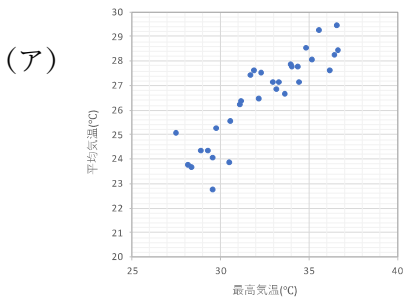
生徒 [ A, B, C, D, E, F, G, H, I, J, K ]

英語 [ 1, 7, 8, 4, 5, 6, 7, 5, 4, 9 ]

数学 [ 2, 5, 3, 7, 6, 8, 3, 7, 5, 7 ]



6-4-3 次の4つの散布図(ア)～(エ)について、 $x$ と $y$ の相関係数をそれぞれ $a, b, c, d$ とするとき、 $a, b, c, d$ の大小関係として正しいものは？



- ①  $a < d < c < b$
- ②  $a < d < d < c$
- ③  $a > d > d > c$
- ④  $a > d > c > b$

